

Lernagenda

Zahlen und Mengen



Name:

Datum / Teilnehmer_in

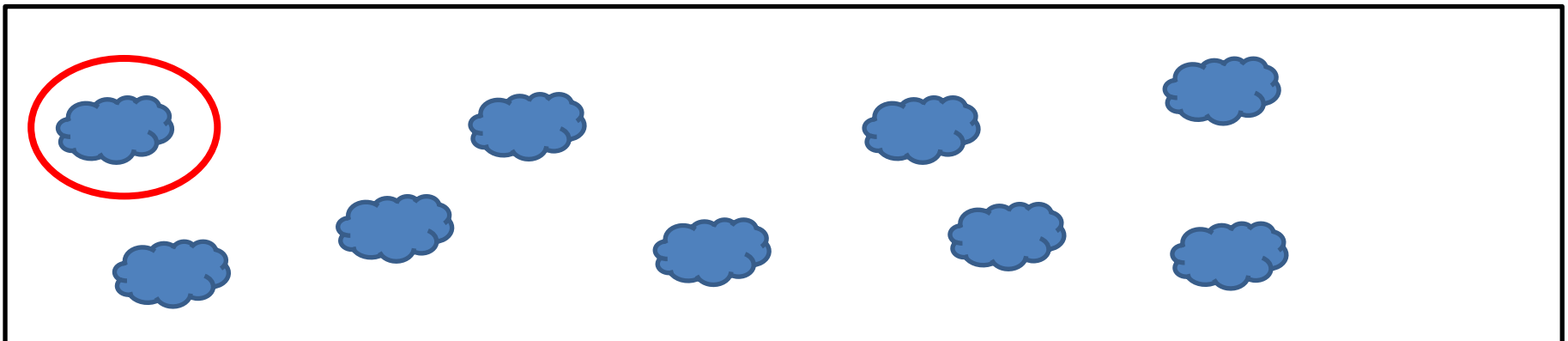
Leittext	4 Stufen	Gruppe	Projekt
----------	----------	--------	---------

Tätigkeiten /Aufgaben	Reihen- folge	Selbständig	Vormachen	Gemeinsam		Anmerkungen


Spure die Zahl nach



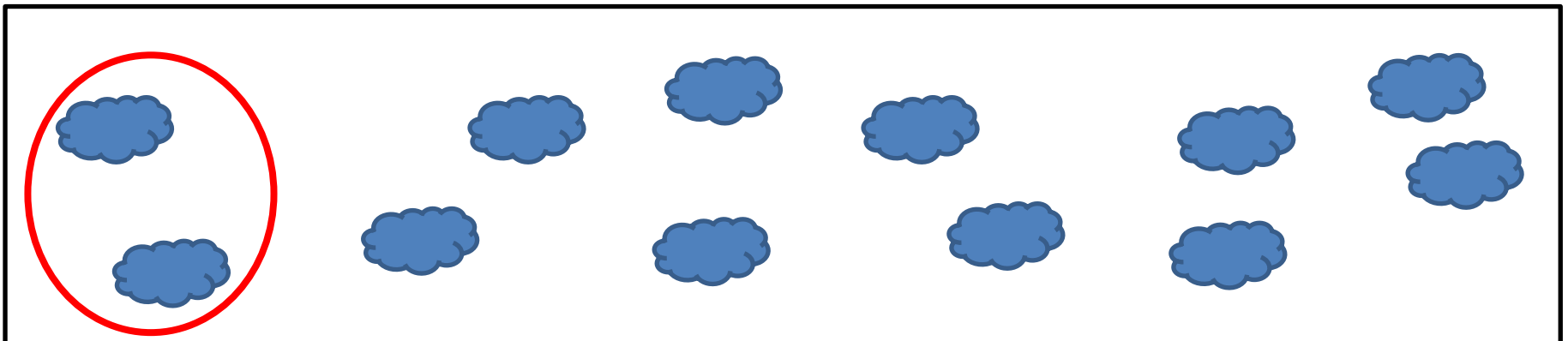
Kreise immer **EINE** Wolke ein



Spure die Zahl nach






Kreise immer **ZWEI** Wolken ein

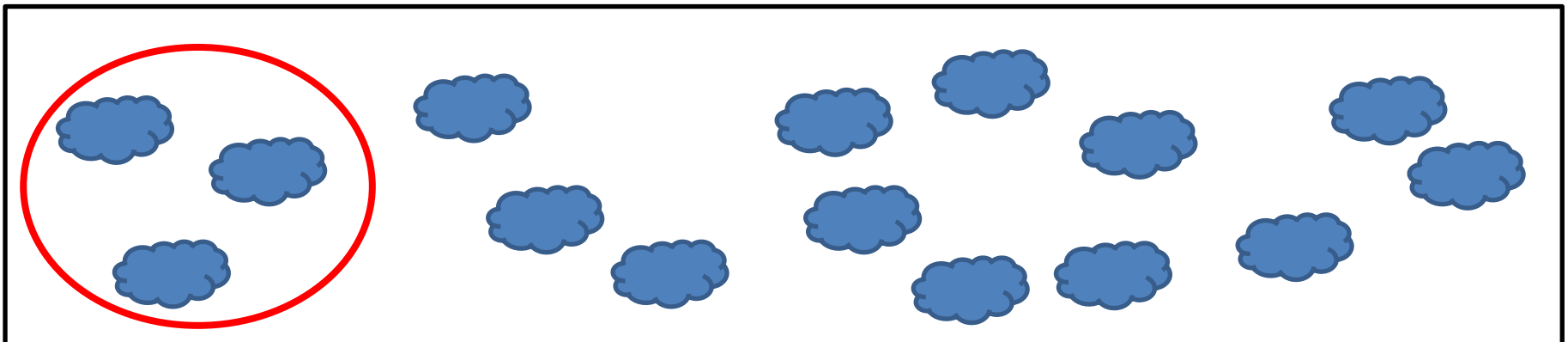


Name:

Spure die Zahl nach



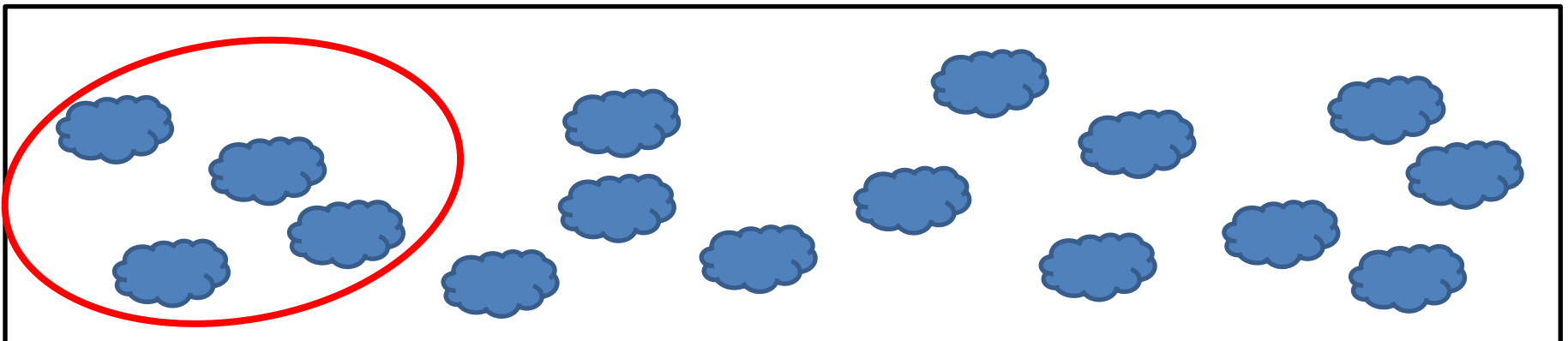
Kreise immer **DREI** Wolken ein




Spure die Zahl nach



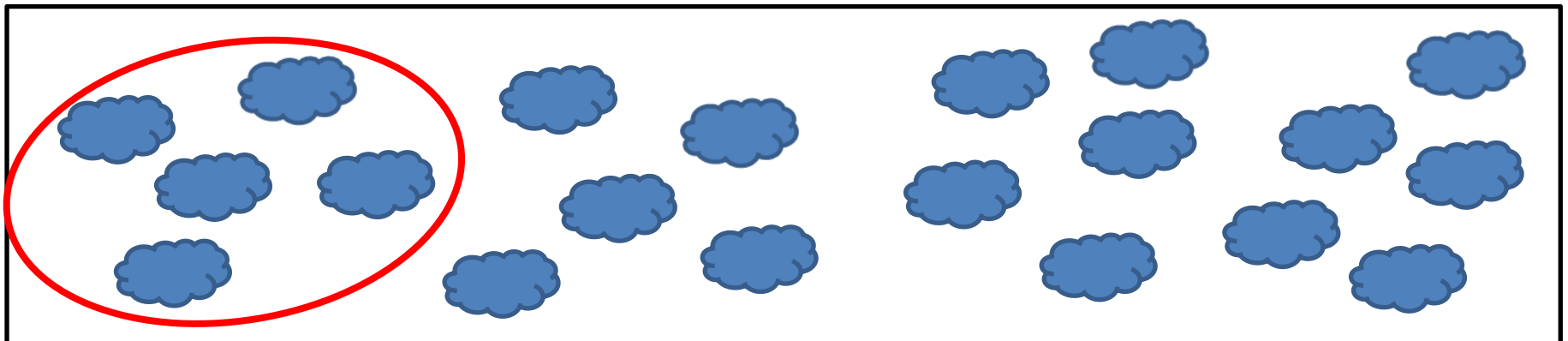
Kreise immer **VIER** Wolken ein





Spure die Zahl nach




Kreise immer **FÜNF** Wolken ein




Spure die Zahl nach



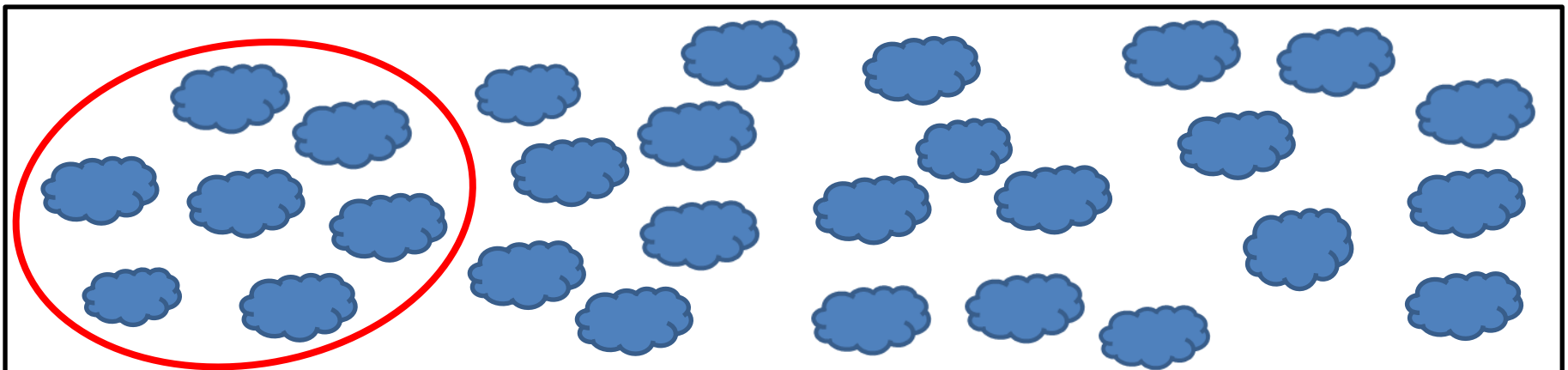
Kreise immer **SECHS** Wolken ein








Spure die Zahl nach



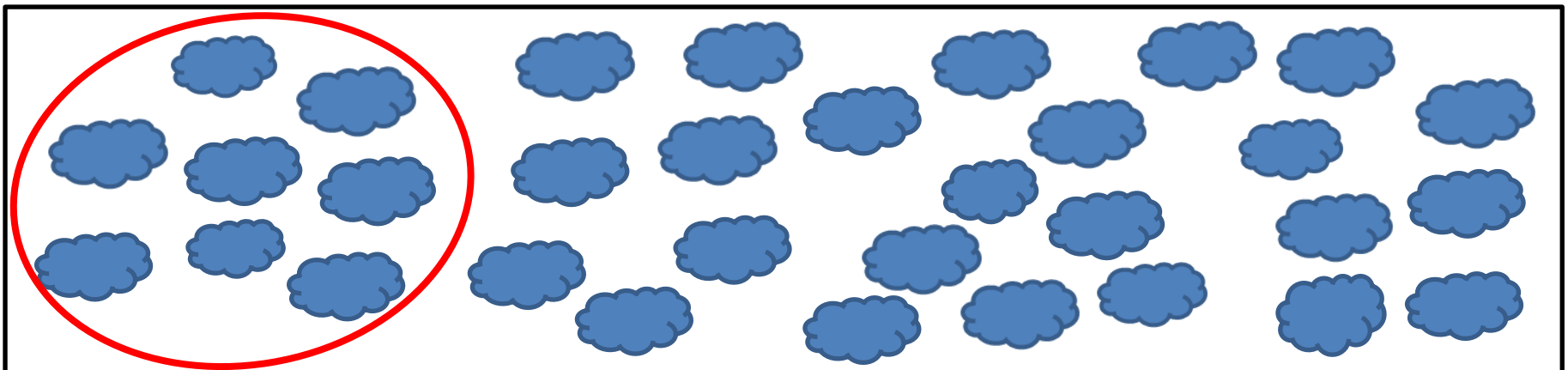
Kreise immer **SIEBEN** Wolken ein







Spure die Zahl nach



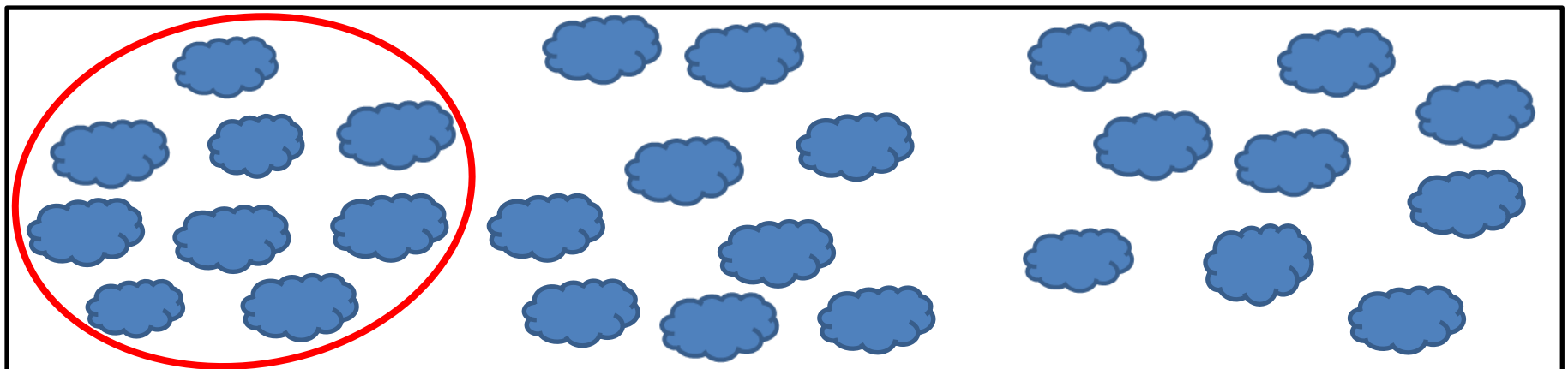
Kreise immer **ACHT** Wolken ein



Spure die Zahl nach








Kreise immer **NEUN** Wolken ein



Name:

Kreuze die richtige Menge an



1	<input type="checkbox"/>
2	<input type="checkbox"/>
3	<input type="checkbox"/>
4	<input type="checkbox"/>
5	<input type="checkbox"/>
6	<input type="checkbox"/>

1	<input type="checkbox"/>
2	<input type="checkbox"/>
3	<input type="checkbox"/>
4	<input type="checkbox"/>
5	<input type="checkbox"/>
6	<input type="checkbox"/>






1	<input type="checkbox"/>
2	<input type="checkbox"/>
3	<input type="checkbox"/>
4	<input type="checkbox"/>
5	<input type="checkbox"/>
6	<input type="checkbox"/>

1	<input type="checkbox"/>
2	<input type="checkbox"/>
3	<input type="checkbox"/>
4	<input type="checkbox"/>
5	<input type="checkbox"/>
6	<input type="checkbox"/>

1	<input type="checkbox"/>
2	<input type="checkbox"/>
3	<input type="checkbox"/>
4	<input type="checkbox"/>
5	<input type="checkbox"/>
6	<input type="checkbox"/>

Name:

Kreuze die richtige Menge an



1	<input type="checkbox"/>
2	<input type="checkbox"/>
3	<input type="checkbox"/>
4	<input type="checkbox"/>
5	<input type="checkbox"/>
6	<input type="checkbox"/>

1	<input type="checkbox"/>
2	<input type="checkbox"/>
3	<input type="checkbox"/>
4	<input type="checkbox"/>
5	<input type="checkbox"/>
6	<input type="checkbox"/>

1	<input type="checkbox"/>
2	<input type="checkbox"/>
3	<input type="checkbox"/>
4	<input type="checkbox"/>
5	<input type="checkbox"/>
6	<input type="checkbox"/>


1	<input type="checkbox"/>
2	<input type="checkbox"/>
3	<input type="checkbox"/>
4	<input type="checkbox"/>
5	<input type="checkbox"/>
6	<input type="checkbox"/>

1	<input type="checkbox"/>
2	<input type="checkbox"/>
3	<input type="checkbox"/>
4	<input type="checkbox"/>
5	<input type="checkbox"/>
6	<input type="checkbox"/>

Name:

Zeichne die richtige Menge 

2 



3 



5 



7 



9 



10 



Name:

Schreibe die passende Zahl neben das Bild.



= 1



=



=



=



=



=



=



=



=



=



=



=

Name:

Schreibe die passende Zahl neben das Bild.



=



=



=



=



=



=



=



=



=



=







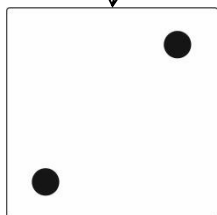

=



=





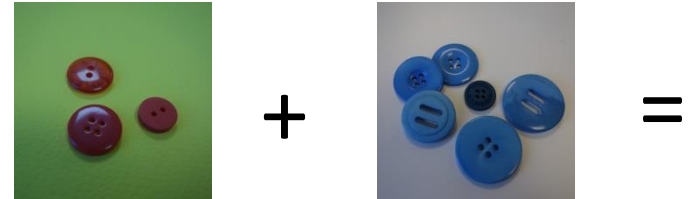


Name:

Verbinde die passende Anzahl.



Name:

Rechne das Ergebnis aus und schreibe es auf.





Name:


Rechne das Ergebnis aus und schreibe es auf.



Achtung! Achte auf + und - Zeichen.


 $-$

 $= 1$


 $+$

 $=$


 $+$

 $=$




 $-$

 $=$



 $+$

 $=$


 $-$

 $=$



 $-$

 $=$


 $-$

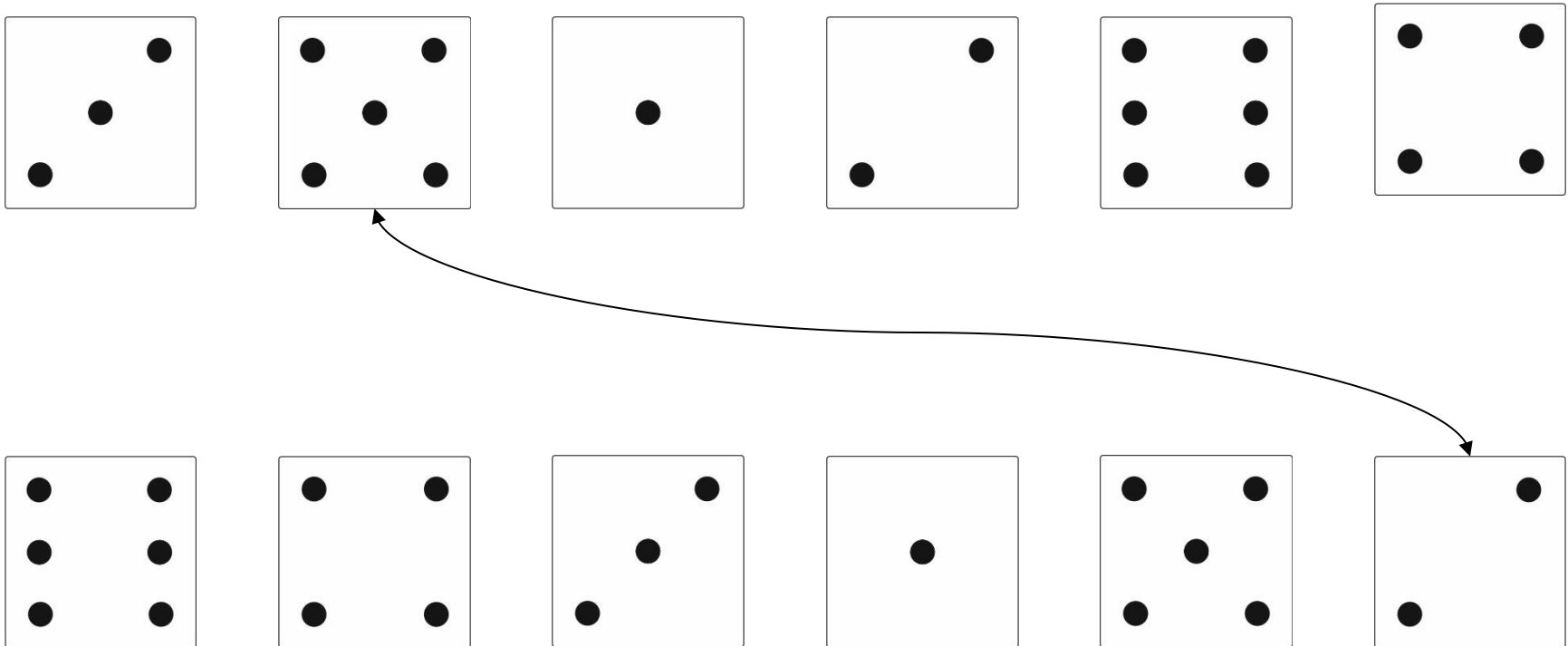
 $=$

Name:

Hilf mit das Durcheinander aufzuklären. Schreibe auf, wie viele Objekte es gibt.



Verbinde die Zahlen so, dass sie zusammen gerechnet immer die Zahl 7 ergeben.



The image shows two rows of six boxes, each containing a different number of dots. The top row boxes contain 3, 4, 1, 2, 5, and 4 dots respectively. The bottom row boxes contain 5, 4, 3, 1, 5, and 2 dots respectively. A curved arrow points from the 4-dot box in the top row to the 3-dot box in the bottom row, indicating a pair that sums to 7.

Name:

Rechne die Maßeinheiten und aus.

$5 \text{ ml} + 5 \text{ ml} = 10 \text{ ml}$

$10 \text{ g} + 5 \text{ g} = 15 \text{ g}$

$3 \text{ cm} + 3 \text{ cm} = 6 \text{ cm}$

$10 \text{ ml} + 10 \text{ ml} =$

$10 \text{ g} + 10 \text{ g} =$

$1 \text{ cm} + 1 \text{ cm} =$

$20 \text{ ml} + 20 \text{ ml} =$

$50 \text{ g} + 50 \text{ g} =$

$4 \text{ cm} + 5 \text{ cm} =$

$50 \text{ ml} + 50 \text{ ml} =$

$100 \text{ g} + 100 \text{ g} =$

$3 \text{ cm} + 5 \text{ cm} =$

$100 \text{ ml} + 100 \text{ ml} =$

$100 \text{ g} + 50 \text{ g} =$

$1 \text{ cm} + 2 \text{ cm} =$

$100 \text{ ml} + 50 \text{ ml} =$

$150 \text{ g} + 50 \text{ g} =$

$4 \text{ cm} + 2 \text{ cm} =$

Lebensmittel – Was kannst du alles in der Küche finden? Kreise die jeweiligen Wörter ein.


ah**obst**orange köpfel urschokolade einmehl zucker
ererdbeeren chidtomate lübirne kjoghurt loizamuesli



Obst,

Draußen - Was kannst du alles im Garten finden?

hegazaunelibaum jogemüse logasonnenschirm itagerublumen h
azgartenhaus agutulpenerasentufeerdegrholz manustannenalo



Werkstatt– Was kannst du alles in der Werkstatt finden? Kreise die jeweiligen Wörter ein.

aghammerolisägemutrezangelapholzitenägelmets
werkbankopilaschraubeneipaskschutzbrillefastiftm

Hammer,

Reinigung - Was kannst du alles in der Wäscherei finden?

alelappentekabügeleisenesaferuwaschmaschineaturane
trockneratuskabügelbrettafutasremangelfartischatreimera



Was siehst du? Schreibe auf was auf dem Bild zu erkennen ist.



Geschirrtücher



Name:

Rückmeldung zum Arbeitsergebnis:

Rückmeldung zum Arbeitsablauf und der Umsetzung der Arbeitsschritte:

Rückmeldung zu den erreichten Lernzielen:

Rückmeldung zu den erreichten Schlüsselkompetenzen:

Rückmeldung zur Weiterentwicklung des Teilnehmers:

Name:

Datum / Teilnehmer_in

Welche Themen / Arbeitsschritte sind Ihnen gut gelungen?

Wobei hatten Sie Schwierigkeiten?

Welche Lernziele konnten Sie erreichen?

Welche Themen / Arbeitsschritte möchten Sie noch üben?

Name:

Datum / Fachkraft

Rückmeldung zum Arbeitsergebnis:

Rückmeldung zum Arbeitsablauf und der Umsetzung der Arbeitsschritte:

Rückmeldung zu den erreichten Lernzielen:

Rückmeldung zu den erreichten Schlüsselkompetenzen:

Rückmeldung zur Weiterentwicklung des Teilnehmers:
